



“Que el virus no contamine tus ganas de aprender... quédate en casa, aprende en casa”

EVALUACIÓN SUMATIVA

SEMANA 24 (Fecha: _____)

Asignatura: Matemática

Curso: 7° año

Nombre: _____

Eje: Álgebra y Funciones.

Objetivo: OA 8. Mostrar que comprenden las proporciones directas e inversas:

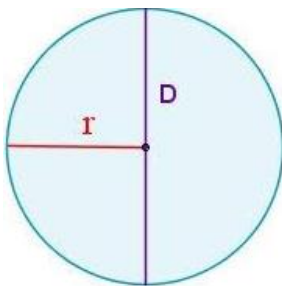
- Realizando tablas de valores para relaciones proporcionales.
- Graficando los valores de la tabla.

Eje: Geometría.

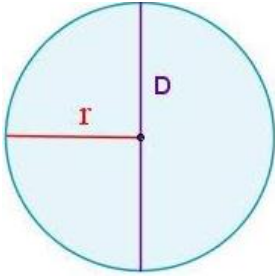
Objetivo: OA 11. Mostrar que comprenden el círculo:

- Describiendo las relaciones entre el radio y el diámetro.
- Estimando el área del círculo.

A.- Calcula el diámetro o radio en cada caso. (4 puntos)

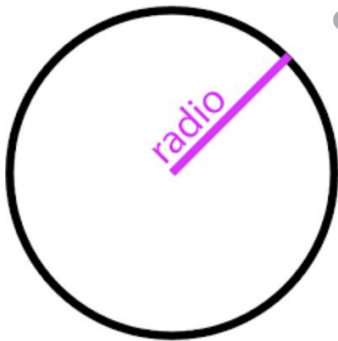


Si su Diámetro (D) es 50 cm, su Radio (r) es: _____



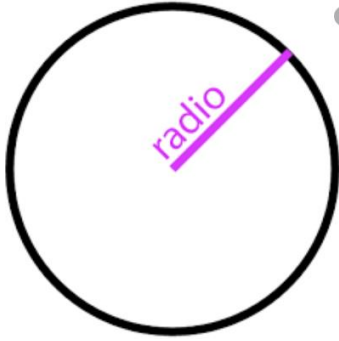
Si su Radio (r) es 40 cm, su Diámetro (D) es: _____

B.- Calcula el área de cada círculo. (4 puntos)



Su Radio (r) es 18 cm

A =



Su Radio (r) es 25 cm

A =