



“Que el virus no contamine tus ganas de aprender... quédate en casa, aprende en casa”

GUÍA DE APRENDIZAJE
EVALUACIÓN FORMATIVA
SEMANA 15 (27/07)

Asignatura: Matemática
Curso: 7° año

Nombre: _____


Eje: Números y operaciones.

Objetivo: OA 1. Mostrar que comprenden la adición y la sustracción de números enteros:

- representando los números enteros en la recta numérica
- representándolas de manera concreta, pictórica y simbólica
- dándole significado a los símbolos + y – según el contexto (por ejemplo: un movimiento en una dirección seguido de un movimiento equivalente en la posición opuesta no representa ningún cambio de posición)

1.- Ubica en la recta numérica los números que se indica.

-1 -7 +4 -3 +5 -4 +8 +7





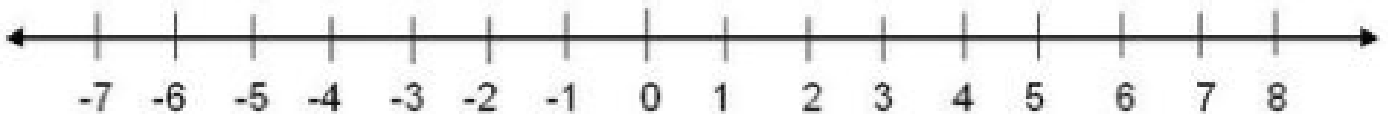
-5

0

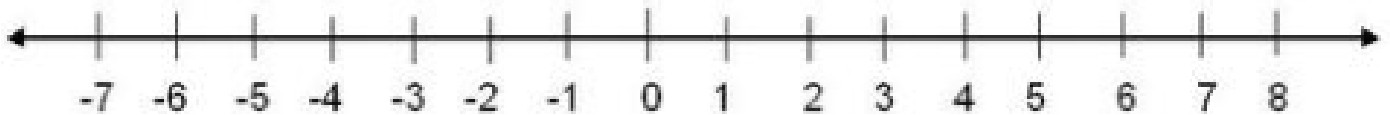
+3

3.- Resuelve las siguientes adiciones.

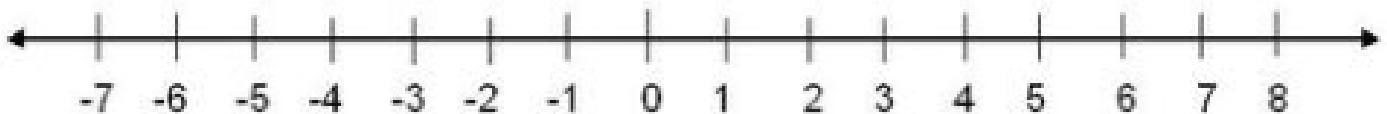
a.- $(+5) + (+3) =$



b.- $(+2) + (+6) =$



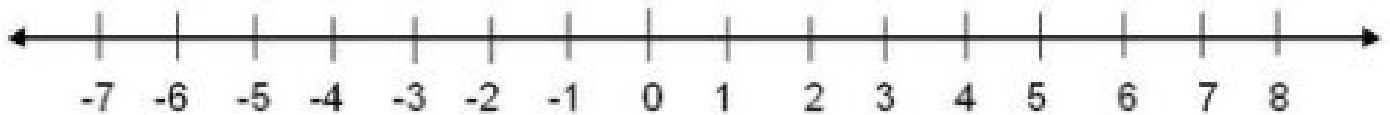
c.- $(+3) + (+4) =$



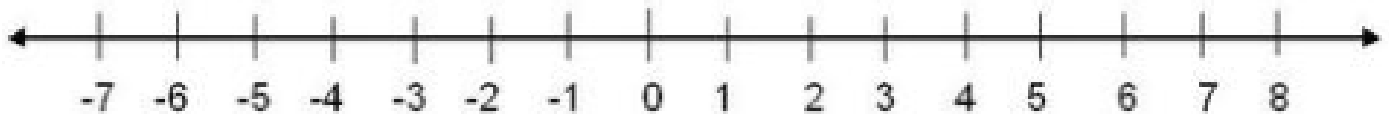


4.- Resuelve las siguientes sustracciones. Fíjate en el ejemplo.

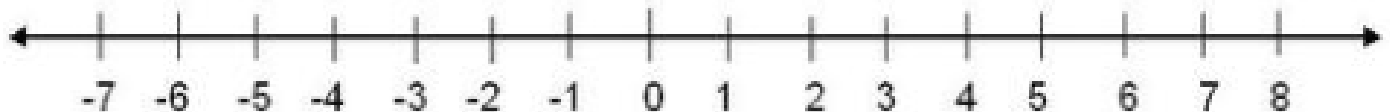
a.- $(+5) - (-2) =$



b.- $(+8) - (-4) =$



c.- $(+5) - (-3) =$





5.- Autoevaluación.

Luego de haber desarrollado la actividad, evalúa tu trabajo a partir de los siguientes criterios.

Criterios de evaluación	Excelente	Suficiente	Por mejorar
Trabajé con concentración y responsabilidad.			
Seguí las instrucciones de trabajo.			
Me esforcé por aclarar mis dudas.			
Trabajé para que la presentación del trabajo fuera clara y ordenada.			
Hice preguntas a la profesora.			

Escribe acá lo que más te costó hacer o entender.



Con cariño, tía Paola.



Escuela Diego de Almagro N° 74. Dirección: Almagro N| 1496. Teléfono: 432 362353. E-mail: diego.al74@hotmail.com



U.T.P.